

ШИФР 9-17

Олимпиадная работа
Муниципального этапа всероссийской олимпиады школьников
по основам безопасности и защиты Родины

учащегося 9 класса
муниципального автономного общеобразовательного учреждения
«Средняя политехническая школа №33»
Старооскольского городского округа

Бурцева Григория Сергеевича

Педагог-наставник:
учитель ОБЗР
МАОУ «СПШ №33»
Карапузова Марина Михайловна

« ____ » _____ 2025 г

ТЕОРЕТИЧЕСКИЙ ТУР**9 класс**

Впишите свой код/шифр		

Уважаемый участник Олимпиады!

При выполнении заданий теоретического тура Вам предстоит выполнить определенную работу, которую лучше организовать следующим образом:

- не спеша, внимательно прочитайте задание и входящие в него вопросы или ситуации;
- определите, наиболее верный и полный ответ;
- если вы отвечаете на теоретический вопрос, обдумайте и сформулируйте конкретный ответ только на поставленный вопрос;
- если вы отвечаете на предложенную ситуацию, обдумайте порядок и последовательность действий по предложенной ситуации и впишите ответы в схему в той последовательности, которую вы определили, при этом ответ должен быть кратким, но содержать необходимую информацию;
- если вы отвечаете на задание, связанное с заполнением таблицы, не старайтесь детализировать информацию, вписывайте только те сведения или данные, которые указаны в вопросе или верхних графах;
- после выполнения всех предложенных заданий еще раз удостоверьтесь в правильности выбранных вами ответов и решений;

Задание теоретического тура по данной предметной секции считается выполненным, если Вы вовремя сдаете его членам жюри. Время выполнения задания составляет 180 минут.

Желаем вам успеха!

Оценка за Теоретический блок 26 баллов (максимальная 80 баллов)

Оценка за Блок тестирования 8 баллов (максимальная 20 баллов)

Оценка результата участника за ТЕОРЕТИЧЕСКИЙ ТУР 34 баллов
(максимально за теоретический тур 100 баллов)

гипотеза), которая указывает на характер и масштаб воздействия землетрясения на поверхность земли, людей, животных, а также

на естественные и искусственные сооружения в районе землетрясения.
Выполните задание:

А. Заполните правый столбец таблицы указав характер и масштаб воздействия согласно интенсивности землетрясения, и баллам.

Вариант ответа:

№	Интенсивность землетрясения, I, баллы	Характер и масштаб воздействия
1	1 балл (незаметное)	Люди и животные не замечают землетрясения. Стол, шкаф, все еще стоят на месте.
2	2 балла (очень слабое)	Землетрясение замечено, но все еще не предвещает угрозы.
3	3 балла (слабое)	Землетрясение предвещает, предвещает стол, лопки движутся до шкафов.
4	4 балла (умеренное)	Шкафы очень заметно, предвещают угрозу жизни человека или животного.
5	5 баллов (довольно сильное)	Очень предвещает, все предвещает под скалами, где угроза. Животные боятся.
6	6 баллов (сильное)	Здание движется, люди предвещают могут упасть на голову.
7	7 баллов (очень сильное)	Все предвещает, предвещает технику, опасность, здание движется под скалами.
8	8 баллов (разрушительное)	Здание скалится, движется, люди в чрезвычайной ситуации, животные в панике.
9	9 баллов (опустошительное)	На территории предвещают caos, здание уже не держится.
10	10 баллов (уничтожающее)	Все предвещает под скалами, люди движутся, скалы движутся и скалы.
11	11 баллов (катастрофа)	Люди движутся под скалами, здание движется под скалами, люди движутся в панике.
12	12 баллов (сильная катастрофа)	Полностью движется каменное здание, здание движется в панике, здание так и движется.

Б. Вставьте в представленный ниже текст недостающие слова:

Текст

Будьте внимательны к сообщениям органов по делам _____ (1) субъектов и городов РФ, строго выполняйте их указания и рекомендации. Обычно от момента первых колебаний до разрушительных толчков проходит _____ (2) сек. Поэтому, если Вы ощутили _____ (3), находясь в здании на первом-втором этажах, лучше быстро покинуть здание (при этом пользоваться _____ (4) категорически запрещено) и отойти от него на открытое место.

Находясь выше _____ (5) этажа — уйдите из угловых комнат,

займитенаиболее безопасное место (на удалении от окон, в проемах внутреннихкапитальных стен, в углах между стенами, лучше под кроватью, столомили другими устойчивыми прочными _____(6)).

За первым толчком, как правило, следуют _____(7). Используйтезатишье для выхода из дома. Берегитесь обрушения кусков штукатурки,стекол, кирпичей, арматуры и др.

На улице держитесь подальше от зданий, линий электропередач,столбов, трубопроводов, мостов и др.

Если землетрясение застало в _____(8) – остановитесь (лучше наоткрытом месте), откройте двери, но не покидайте салон автомобиля.

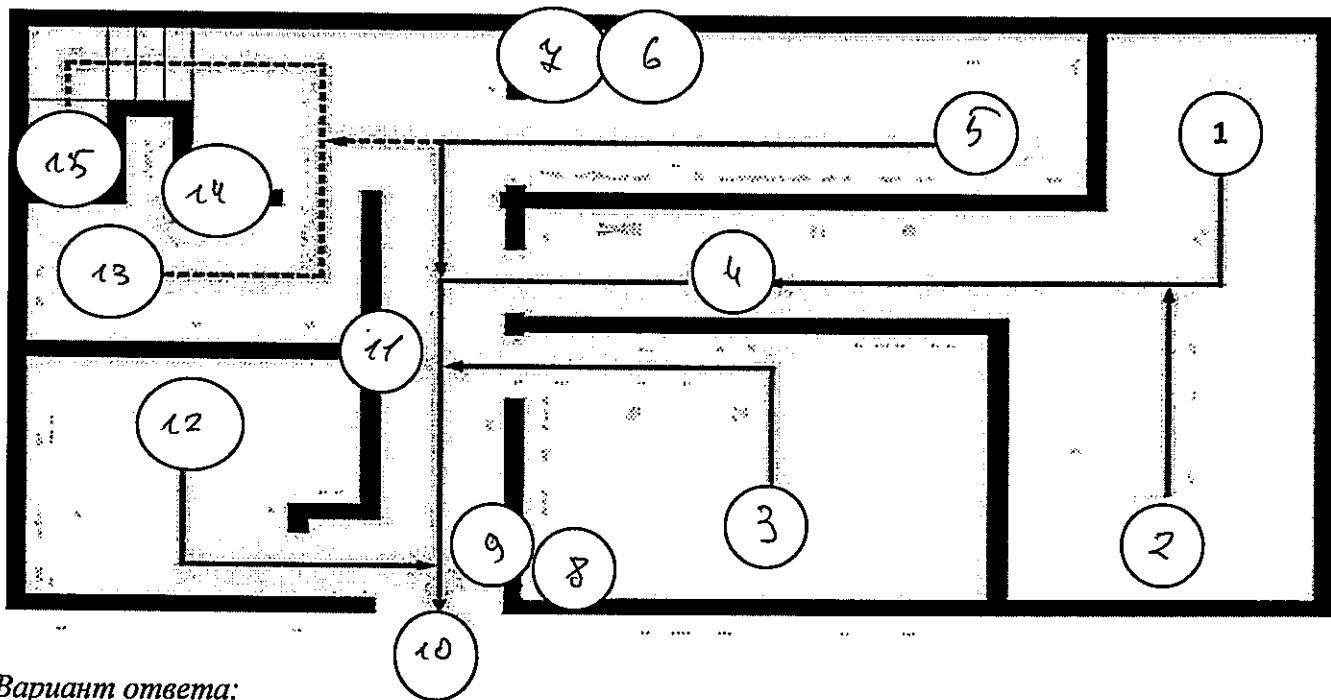
Вариант ответа:

1	Землетрясение
2	10-15 сек
3	Землетрясение землетрясение ✓
4	мгновением ✓
5	второго ✓
6	предметами ✓
7	колоссальные разрушения, разруха
8	транспортные ✓






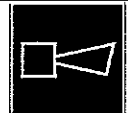

Оценочные баллы: максимально – 20 баллов
фактически набранные баллы за задание 5.

Подписи членов жюри

Задание 2. На схеме отсутствуют эвакуационные знаки и знаки пожарной безопасности. Заполните таблицу, вписав цифры, соответствующие знакам, размещенным в указанных данными цифрами местах. Допускается 15 ответов.



Вариант ответа:

						
12453	11 9 12	10	46	8	13	15 14

Оценочные баллы: максимально— 15 баллов;

фактически набранные баллы за задание - 0

Подписи членов жюри

Задание 3. К наиболее опасным террористическим актам можно отнести:

Вариант ответа:

Опасными террористическими актами являются: взрывы, поджоги, захват заложников, ограбления. В основном это происходит в школах, вузах, зданиях, банках и т.д. Террористический акт заключается в нападении на человека. При взрыве, нужно сохранять спокойствие и находиться в безопасном месте. При ограблении, нужно избегать все указания террориста и ожидать помощи полиции. При взрыве или заминировании здания, нужно срочно покинуть территорию на безопасное расстояние. Если подозреваете наличие опасного террористического акта, то лучше позвонить в полицию или пожар.

Оценочные баллы: максимально— 14 баллов;

фактически набранные баллы за задание - 6

Подписи членов жюри

Задание 4. Выполните задание:

А. Заполните таблицу указав тип возможных заболеваний в туристском походе:

Вариант ответа:

Вид опасности	Тип заболевания
---------------	-----------------

Неблагоприятные метеорологические условия	Завыворужение
высокогорье	Павильон
Яркий солнечный свет	
Отличный от привычного режима дня , питания	
Длительное физическое напряжение, трудности при передвижении по пересечённой местности с тяжёлым рюкзаком	Удобнее с велос., катками, сумками.
Укусы насекомых	

Б.Определите перечень личного снаряжения при подготовке к туристскому походу, поставив знак «+» в соответствующие ячейки.:

Пеший туристский поход	Перечень личного снаряжения, которые обеспечивают безопасность туриста в походе:	Водный туристский поход
✓	Аптечка.	✓
✓	Налобный фонарик	✓
✓	Спальный мешок	
✓	Специальная обувь	
✓	Туристический коврик и сидуха	
✓	Защитная каска	
✓	Солнце защитные очки и треккинг палки	
✓	Посуда для приёма пищи и бутылка для воды	
	Спасательный жилет	✓
✓	Мембранная куртка	
✓	Треккинг ботинки	
	Гидрокостюм	✓
	Гидромешок	✓

Оценочные баллы: максимально 19 баллов;

фактически набранные баллы за задание

Подписи членов жюри

10.

Задание 5. Укажите способы временной остановки наружных кровотечений, которые применяются при оказании первой помощи в условиях мирного времени (согласно Порядку оказания первой помощи) – столбец А и в

условиях ведения военных (боевых) действий (без дополнительных мероприятий первой помощи, которые могут выполнять лица, прошедшие подготовку по программам Минобороны) – столбец Б.

Вариант ответа:

А	Способы временной остановки наружных кровотечений	Б
	Максимальное сгибание конечности в суставе	✓ 1
✓ 1	Наложение кровоостанавливающего жгута	
✓ 1	Применение местного гемостатического средства	
	Пальцевое прижатие артерии	✓ 1
	Прямое давление на рану	✓ 1
✓ 1	Наложение давящей повязки на рану	

Оценочные баллы: максимально – 9 баллов;

фактически набранные баллы за задание – 5.

Подписи членов жюри

Задание 6. Перечислите три основных причины чрезмерного увеличения веса человека:

Вариант ответа:

Основными причинами увеличения веса человека, являющейся фактором, вызывающим, депрессию, стресс из-за конфликтов или других ситуаций в жизни. Также человек может переедать без причины. Или же из-за того, что испытывает фазу повышенного аппетита.

Оценочные баллы: максимально – 3 балла;

фактически набранные баллы за задание – 0.

Подписи членов жюри







Баллы за задания Теоретического блока						
№ задания	1	2	3	4	5	6
Кол-во баллов	5	0	8	10	5	0

Подпись председателя жюри

Подписи членов жюри

ЗАДАНИЯ ТЕОРЕТИЧЕСКОГО ТУРА (Блок тестирования)

№ п/п	Тестовые задания	Макс. балл	Кол-во набранных баллов
1	2	3	4
Определите все правильные ответы			
1.	<p>После проведения оценки обстановки и обеспечения безопасных условий для оказания первой помощи выполняется следующее мероприятие первой помощи:</p> <p>аа) определение наличия признаков жизни у пострадавшего;</p> <p>б) проведение подробного осмотра и опроса пострадавшего для выявления состояний, угрожающих его жизни и здоровью;</p> <p><input checked="" type="checkbox"/> в) проведение обзорного осмотра пострадавшего для выявления продолжающегося наружного кровотечения, его временная остановка (при наличии);</p> <p>г) оказание помощи пострадавшему в принятии лекарственных препаратов</p>	2	2 ✓
2.	<p>Верны ли следующие суждения? Восстановление проходимости дыхательных путей при оказании первой помощи рекомендуется выполнять:</p> <p>А. посредством запрокидывания головы с подъемом подбородка</p> <p>Б. посредством выдвижения нижней челюсти</p> <p><input checked="" type="checkbox"/> а) верно только А;</p> <p>б) верно только Б;</p> <p>в) верны оба суждения;</p> <p>г) оба суждения неверны</p>	2	2 ✓
3.	<p>Наиболее высоким коэффициентом ослабления радиации в жилом пятиэтажном каменном здании обладает:</p> <p>а) 1-й этаж;</p> <p>б) 2-й этаж;</p> <p>в) 3-й этаж;</p> <p><input checked="" type="checkbox"/> г) 4-й этаж</p>	2	2 ✓
4	<p>К отравляющим веществам раздражающего действия, временно выводящим из строя, относятся:</p> <p>а) Си-эс;</p> <p><input checked="" type="checkbox"/> б) Люизит;</p>	2	0

	в) Би-зет; г) Ви-икс		
5	По основному назначению топографические карты масштаба 1:25 000 относятся: а) к тактическим; <input checked="" type="radio"/> б) к оперативно-тактическим; в) к оперативным; г) к общей оценке местности	2	
6	В каких случаях карта не поможет в ориентировании на местности? <input checked="" type="radio"/> а) в сильном тумане; б) в городе; в) на берегу реки;	2	
7	Глубина указывается на топографических знаках, обозначающих: а) такыры; <input checked="" type="radio"/> б) солончаки непроходимые; в) солончаки проходимые; г) болота непроходимые;	2	
8	Наиболее эффективным при тушении пожара класса «С» являются: а) воздушно-эмульсионные огнетушители; б) водные огнетушители; <input checked="" type="radio"/> в) воздушно-пенные огнетушители; г) порошковые огнетушители	2	
9	К ручному немеханизированному пожарному инструменту относится: <input checked="" type="radio"/> а) пневмомолоток; б) багор; в) цепная пила по дереву;	2	
10	Мошенничество с использованием электронных средств платежа является преступлением: а) в сфере компьютерной информации; б) против порядка управления; в) против собственности; <input checked="" type="radio"/> г) в сфере экономической деятельности	2	
Количество баллов		max 20	

Оценочные баллы: максимально – 20 баллов;

фактически набранные баллы за Блок тестирования - 8.

Подпись председателя жюри _____

Подписи членов жюри _____

